

1 Réponds aux questions en faisant des phrases.  
Utilise les mots soulignés.

- a) Comment s'appelle la sorcière ?
- b) Quel est le titre du texte ?
- c) A quelle fête est invitée Ramina ?
- d) Pourquoi tout le monde se moque-t-il de Ramina ?

2 Vrai ou faux ?

- a) C'est un fantôme qui apporta l'invitation au bal à .....  
Ramina.
- b) La vieille sorcière se trompa de chemin et se retrouva .....  
au milieu d'un château.
- c) Ramina est épuisée d'avoir tant voler pour arriver au .....  
lieu du bal.

3 Barre ce qui est faux dans chaque phrase.  
Récris la phrase pour que ça devienne vrai.

- a) Un jour, un fantôme annonça à Ramina qu'elle était invitée au Bal des Fées.
- b) La plus jeune des sorcières fut chargée d'aller s'excuser auprès de Ramina.
- c) Les habitants du château attrapèrent la vieille sorcière.
- d) Ramina créa un balai magique en prenant plusieurs fois le poil de sa jour.
- e) Depuis, Ramina a créé une usine de baguette et est débordée.

1 Réponds aux questions en faisant des phrases.  
Utilise les mots soulignés.

- a) Comment s'appelle la sorcière ?
- b) Quel est le titre du texte ?
- c) A quelle fête est invitée Ramina ?
- d) Pourquoi tout le monde se moque-t-il de Ramina ?

2 Vrai ou faux ?

- a) C'est un fantôme qui apporta l'invitation au bal à .....  
Ramina.
- b) La vieille sorcière se trompa de chemin et se retrouva .....  
au milieu d'un château.
- c) Ramina est épuisée d'avoir tant voler pour arriver au .....  
lieu du bal.

3 Barre ce qui est faux dans chaque phrase.  
Récris la phrase pour que ça devienne vrai.

- a) Un jour, un fantôme annonça à Ramina qu'elle était invitée au Bal des Fées.
- b) La plus jeune des sorcières fut chargée d'aller s'excuser auprès de Ramina.
- c) Les habitants du château attrapèrent la vieille sorcière.
- d) Ramina créa un balai magique en prenant plusieurs fois le poil de sa jour.
- e) Depuis, Ramina a créé une usine de baguette et est débordée.

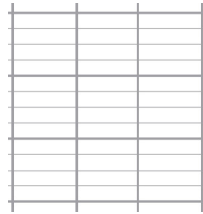
Ecris ce que possède chaque enfant, puis calcule combien ils possèdent à eux deux :



Antoine : ..... €



Fatou : ..... €




..... €

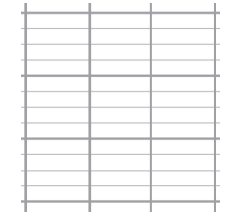
Ecris ce que possède chaque enfant, puis calcule combien ils possèdent à eux deux :



Antoine : ..... €



Fatou : ..... €



..... €

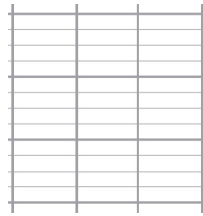
Ecris ce que possède chaque enfant, puis calcule combien ils possèdent à eux deux :



Antoine : ..... €



Fatou : ..... €



..... €

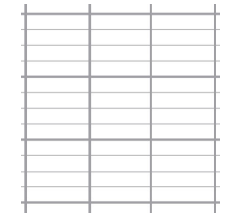
Ecris ce que possède chaque enfant, puis calcule combien ils possèdent à eux deux :



Antoine : ..... €




Fatou : ..... €



..... €

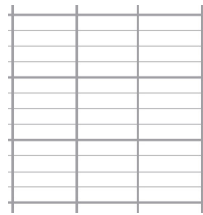
Ecris ce que possède chaque enfant, puis calcule combien ils possèdent à eux deux :



Antoine : ..... €



Fatou : ..... €




..... €

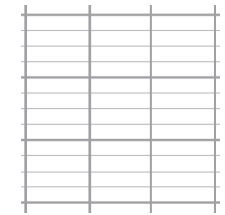
Ecris ce que possède chaque enfant, puis calcule combien ils possèdent à eux deux :



Antoine : ..... €



Fatou : ..... €



..... €