



1  Observe et complète.




2  Colorie les cases du nombre 1 000.


mille	$100 + 10$	100 centaines	$500 + 500$	$999 + 10$	100×10
10 centaines	$999 + 1$	$50 + 50$	10×10	10 dizaines	

3  Continue.


800	900				1 300		
975	980	985					

4  Complète.

$300 + \dots = 1\,000$; $500 + \dots = 1\,000$; $1\,000 = 500 + \dots$
 $990 + \dots = 1\,000$; $100 + \dots = 1\,000$; $1\,000 = 750 + \dots$

1  Observe et complète.




2  Colorie les cases du nombre 1 000.

mille	$100 + 10$	100 centaines	$500 + 500$	$999 + 10$	100×10
10 centaines	$999 + 1$	$50 + 50$	10×10	10 dizaines	

3  Continue.

800	900				1 300		
975	980	985					

4  Complète.

$300 + \dots = 1\,000$; $500 + \dots = 1\,000$; $1\,000 = 500 + \dots$
 $990 + \dots = 1\,000$; $100 + \dots = 1\,000$; $1\,000 = 750 + \dots$