

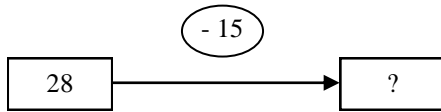
Pour les exercices suivants, tu dois obligatoirement écrire :

- l'opération en ligne
- la phrase réponse

Tu peux, si tu le veux, faire un schéma.

❶ Il y avait 28 canaris dans la volière. 15 d'entre eux ont réussi à s'échapper par un trou du grillage.

Combien reste-t-il de canaris ?

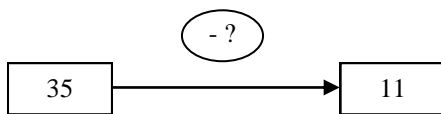


$$28 - 15 = 13$$

Il reste 13 canaris dans la volière.

❷ Avant le repas, à la cantine, la corbeille contenait 35 morceaux de pain. Elle n'en contient plus que 11 à la fin du repas.

Combien de morceaux de pain les enfants ont-ils mangé ?



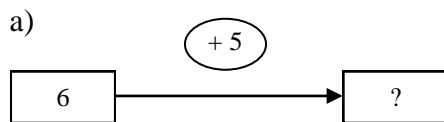
$$35 - 11 = 24$$

Les enfants ont mangé 24 morceaux de pain.

❸ Ondine, Colin et Thomas ont pêché ensemble 18 poissons. Colin en a pêché 6 et Thomas 5.

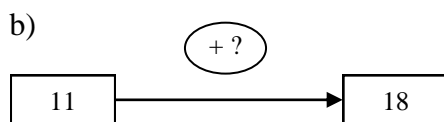
a) **Combien de poissons les garçons ont-ils pêché ?**

b) **Combien de poissons a pêché Ondine ?**



$$6 + 5 = 11$$

Les garçons ont pêché 11 poissons.



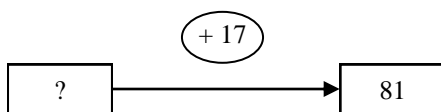
$$18 - 11 = 7$$

$$11 + 7 = 18$$

Ondine a pêché 7 poissons.

❹ Mme Dupuis a donné 17 € à sa fille Zoé pour son anniversaire. Zoé a maintenant la somme exacte pour s'acheter un appareil photo à 81 €.

Quelle somme Zoé avait-elle avant son anniversaire ?



$$17 + ? = 81$$

$$81 - 17 = 64$$

$$? = 64$$

Zoé avait 64 € avant son anniversaire.